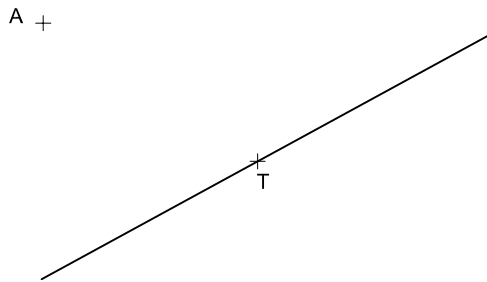
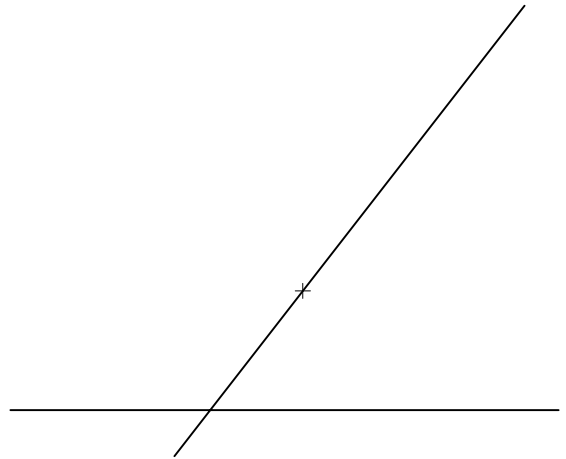


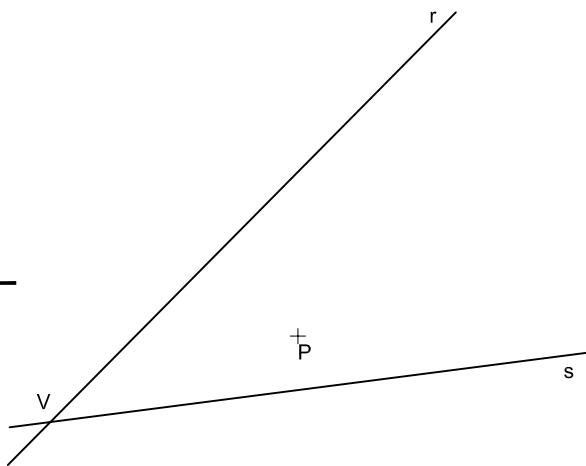
1.- Traçar la circumferència tangent a una recta en un punt de ella i que passe per un altre punt exterior.



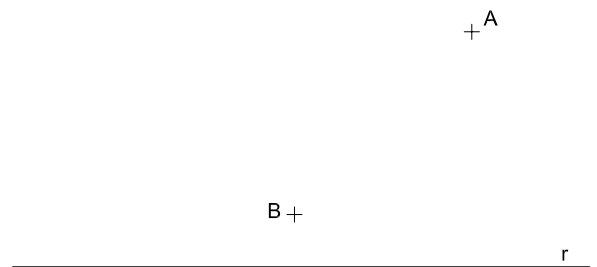
2.- Traçar les circumferències tangents a dos rectes secants donat el punt de tangència en una de les rectes.



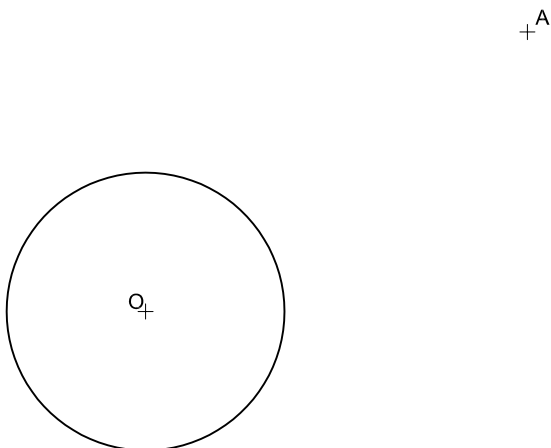
3.- Traçar les circumferències tangents a dues rectes conegudes i que passen per un punt interior a l'angle que formen.



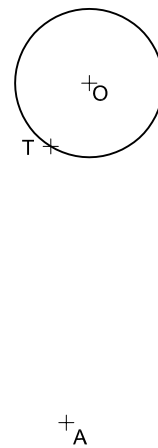
4.- Traçar les possibles circumferències tangents a una recta i que passen per dos punts exteriors a la mateixa.



5.- Traçar la circumferència de radi $R=23$ tangent a una circumferència donada i que passe per un punt exterior.



6.- Traçar la circumferència tangent a un'altra circumferència donada i que pase per dos punts (un dels en la circumferència)



Institut
IES. GILABERT
CENTELLES

Grup

Nº

Nota

TANGÈNCIES II

Núm. dibuix